



ZADANIA DO ROZWIĄZANIA



WYBIERZ NUMER ZADANIA



- Zadanie 1
- Zadanie 2
- Zadanie 3
- Zadanie 4
- Zadanie 5

- Zadanie 6
- Zadanie 7
- Zadanie 8
- Zadanie 9
- Zadanie 10




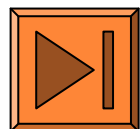
W PLANETARIUM FOTELE USTAWIONE
SĄ W CZTERECH OKRĘGACH O
WSPÓLNYM ŚRODKU. KAŻDY KOLEJNY
RZĄD POSIADA CZTERY FOTELE
WIĘCEJ NIŻ POPRZEDNI. ILE FOTELI
JEST W KAŻDYM RZĘDZIE JEŻELI
WIADOMO, ŻE WSZYSTKICH MIEJSC NA
WIDOWNI JEST 196?

Odp.
43,47,51,55



ZADANIE 2.
ODLEGŁOŚĆ Z POZNANIA DO
WARSZAWY WYNOŚI OKOŁO 260 KM.
SAMOCHÓD ZUŻYWA ŚREDNIO 5,7 L
PALIWA NA 100 KM. ILE PALIWA
POTRZEBUJE NA POKONANIE TEJ
TRASY?


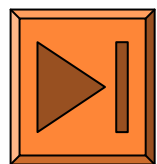
○ Odp. 14,82 litrów



ZADANIE 3.

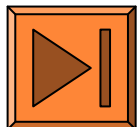
W 2 KG SOLANKI JEST 30 G SOLI. W 3 KG INNEJ SOLANKI JEST 40 G SOLI. W KTÓRYM ROZTWORZE JEST WIĘKSZE STEŻENIE SOLI?

Odp. W 2 kg roztworze




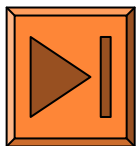
BABCIA WANDZIA ZROBIŁA DUŻY
GARNEK SOKU MALINOWEGO. MA DO
DYSPOZYCJI 2 RODZAJE SŁOIKÓW: 0,5 L
LUB 0,7 L. ROZLAŁA SOK DO
MNIJSZYCH SŁOIKÓW I
WYKORZYSTAŁA ICH 21. ILE
WIĘKSZYCH SŁOIKÓW
POTRZEBOWAŁABY BABCIA, GDYBY DO
NICH CHCIAŁA ROZLAĆ SOK?

○ **Odp. 15 słoików**



NAMIOTÓW 2, 3, 4-OSOBOWYCH.
ROZBITO TRZY RAZY WIĘCEJ
NAMIOTÓW 2 OSOBOWYCH NIŻ 3
OSOBOWYCH, A 4 OSOBOWYCH O $\frac{1}{4}$
WIĘCEJ NIŻ 3 OSOBOWYCH. ILE
NAMIOTÓW ROZBILI HARCERZE
JEŻELI WSZYSTKICH MIEJSC W
NAMIOTACH BYŁO 112?



Odp. 42 namioty



ZADANIE 6.


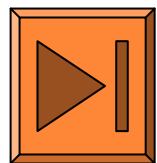
W KOSZU JEST WIĘCEJ NIŻ 50, ALE MNIEJ NIŻ 100 JABŁEK. WIEMY, ŻE MOŻNA JE ROZDZIELIĆ PO RÓWNO MIĘDZY DWOJE, TROJE I PIĘCIORO DZIECI, ALE NIE DA SIĘ JE ROZDZIELIĆ PO RÓWNO MIĘDZY CZWORO DZIECI. ILE JEST JABŁEK?

○ Odp. 90 jabłek



PONUMERUJMY ICH KOLEJNO OD 1 DO 11) SIEDZIAŁO PRZY OKRĄGŁYM STOLIKU W RESTAURACJI. UMÓWILI SIĘ, ŻE CO DRUGI Z NICH (ODLICZAJĄC ZGODNIE Z KOLEJNOŚCIĄ) BĘDZIE OPUSZCZAŁ LOKAL, A OSTATNI ZAPŁACI ZA WSZYSTKICH. JEŚLI PIERWSZY WYSZEDŁ PRZYJACIEL NR 1, TO KTO PŁACIŁ ZA OBIAD?


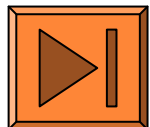
Odp. Nr 6



ZADANIE 8.

WIADRO NAPEŁNIONE WODĄ PO
BRZEGI WAŻY
20 KG, A NAPEŁNIONE DO POŁOWY
WAŻY 11 KG.
ILE WAŻY PUSTE WIADRO?



○ Odp. 2 kg



ZADANIE 9.


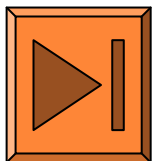
DWIE KURY W CIĄGU DWÓCH DNI
ZNOSZĄ 2 JAJKA. ILE JAJEK W
CIĄGU 6 DNI ZNIOŚĄ 4 KURY?

○ Odp. 12 jaj



SWOICH DZIECI NA PIESZĄ
WYCIECZKĘ. PLECAKI CAŁEJ
CZWÓRKI WAŻYŁY RAZEM 20 KG.
PLECAKI DWÓCH CÓREK WAŻYŁY PO
TYLE SAMO. PLECAK SYNA WAŻYŁ
TYLE, ILE PLECAKI CÓREK RAZEM, A
PLECAK PANA ADAMA BYŁ TRZY
RAZY CIĘŻSZY NIŻ PLECAK SYNA. ILE
WAŻYŁ PLECAK PANA ADAMA?

Odp : 12 kg



KONIEC

